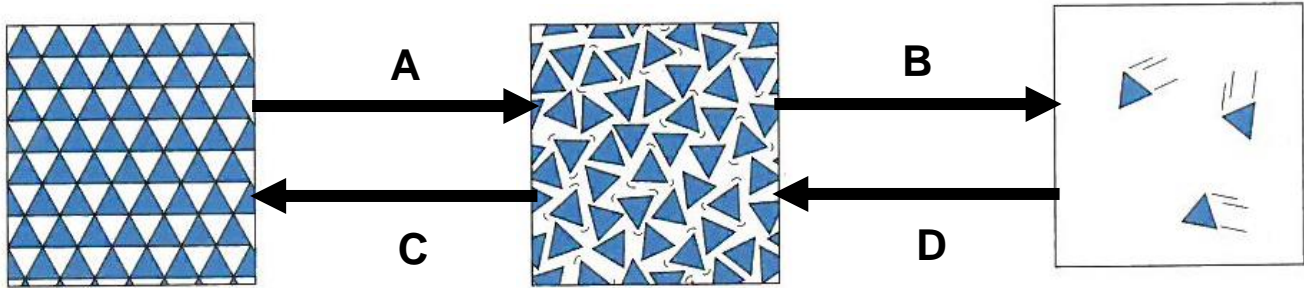


Activité

RAPPELS SUR LES CHANGEMENTS D'ÉTAT

1 – Pour chacune des représentations ci-dessous, indiquer à quel état se trouve la substance.



2 – Indiquer le nom des changements d'état représentés :

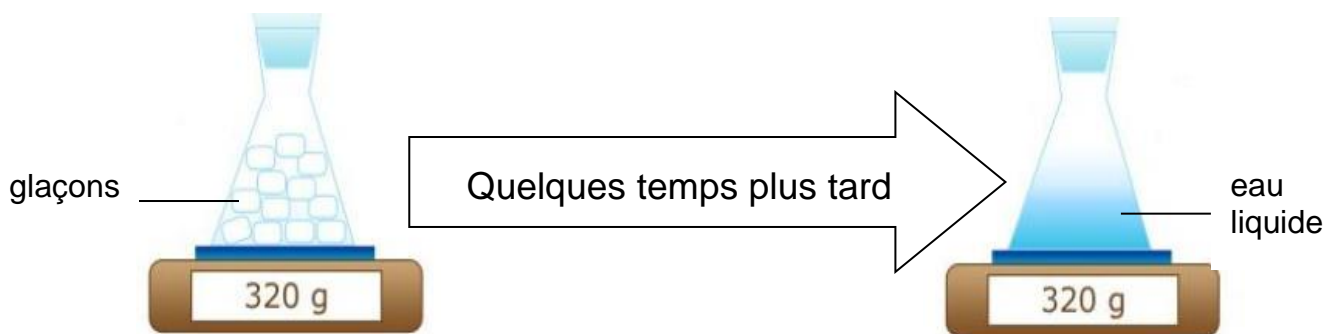
- A :
- B :
- C :
- D :

3 – Donner un exemple de chacun de ces changements d'état dans la vie quotidienne :

- A :
- B :
- C :
- D :

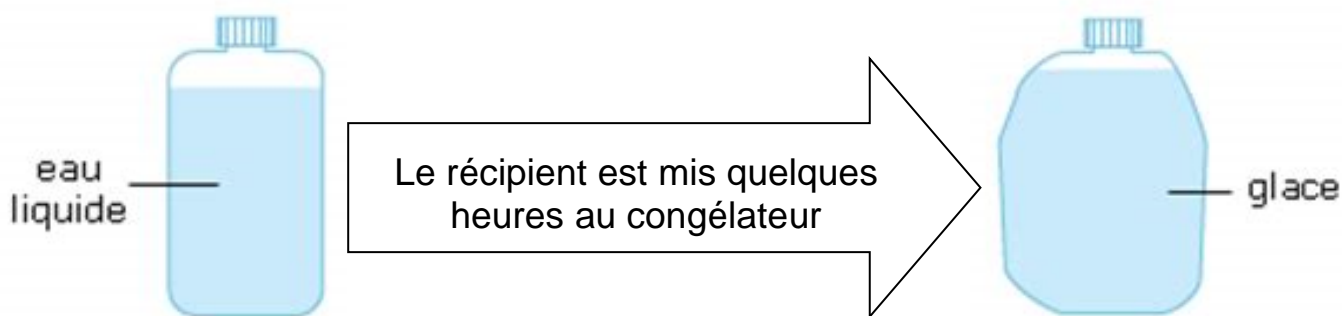
4 – Quelles propriétés des changements d'état sont mises en évidence par les expériences ci-dessous ?

Expérience 1 :



Propriété :

Expérience 2 :



Propriété :